


## Énigmes du lundi 12 avril 2021


### Cycle 2 – Énigme 1

#### La bosse des maths !

Des chameaux et des dromadaires sont dans un enclos.

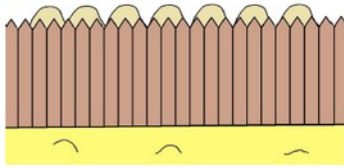


chameau



dromadaire

Léa voit 7 bosses au-dessus de la barrière mais ne voit pas les têtes.



Combien de chameaux et de dromadaires peuvent être cachés derrière la barrière ?

### Cycle 3 – Énigme 1

#### Nombres en farandole

Complète les cases en utilisant chaque jeton au moins une fois mais pas plus de deux fois.

			16		2	=			
			x						
				x	5	=			
			=				=		
4	5	6	8	x		=		:	
8	20	32						=	-
48	64	160							
:	x		=						=
									28

### Cycle 4 – Énigme 1

#### Lola nous en fait voir de toutes les couleurs

Lola adore peindre. Sur de belles feuilles blanches « 24x32 », elle étale 320 cm<sup>2</sup> de bleu, 280 cm<sup>2</sup> de rouge puis 250 cm<sup>2</sup> de jaune. Après ces trois barbouillages, on peut voir 120 cm<sup>2</sup> de vert, 80 cm<sup>2</sup> de violet, 50 cm<sup>2</sup> d'orange et 20 cm<sup>2</sup> de marron (superposition des 3 barbouillages). Combien de cm<sup>2</sup> de blanc reste-t-il donc sur la feuille ?